



EDITAL Nº 01/2023 - SELEÇÃO SIMPLIFICADA DE VAGAS PARA PREENCHIMENTO DE CARGOS TEMPORÁRIOS DE EXCEPCIONAL INTERESSE PÚBLICO, PARA ATENDER À DEMANDA MUNICIPAL DA PREFEITURA MUNICIPAL DE FRANCISCO MACÊDO – PI



CADERNO DE PROVAS

AUXILIAR DE SAÚDE BUCAL

Editais Nº. 01/2023 – Prefeitura Municipal de Francisco Macêdo - PI

06 de agosto de 2023

ORIENTAÇÕES IMPORTANTES

01 - Este caderno contém 40 questões, numeradas de 1 a 40, do tipo múltipla escolha, dispostas da seguinte maneira:

- a) questões de 1 a 10, relativas à Língua Portuguesa;
- b) questões de 11 a 20, relativas à Matemática;
- c) questões de 21 a 35, relativas a Conhecimentos Específicos do Cargo;
- d) questões de 36 a 40, relativas a Conhecimentos Locais e Atualidade.

02 - Verifique se a quantidade e a ordem das questões do seu CADERNO DE QUESTÕES estão de acordo com as informações anteriores.

03 - Confira se o caderno contém falhas: folha em branco, má impressão, páginas trocadas, numeração errada, etc. Encontrando falhas, levante a mão. O fiscal o atenderá e trocará o seu caderno.

04 - Cada questão tem 4 (quatro) alternativas (A - B - C - D). Apenas 1 (uma) resposta é correta. Não marque mais de uma resposta para a mesma questão, nem deixe nenhuma delas sem resposta. Se isso acontecer, a questão será anulada.

05 - Transcreva para a folha de respostas, com caneta de tinta azul ou preta, todas as respostas marcadas na prova. Assinale a resposta certa, preenchendo toda a área.

06 - Tenha cuidado na marcação do Cartão-resposta, pois ele não será substituído em hipótese alguma.

07 - Confira e assine o Cartão-resposta antes de entregá-lo ao Fiscal. **NA FALTA DA ASSINATURA, O CANDIDATO SERÁ ELIMINADO DO CERTAME.**

08 - O candidato assinará a ATA DE PRESENÇA, conforme o cargo ao qual concorre, bem como registrará a DIGITAL na mesma.

09 - Após DUAS HORAS do início das provas, o candidato poderá retirar-se da sala de aplicação de provas, sem levar este caderno, que será postado no site.

10 - Ao sair, o candidato entregará ao fiscal o CARTÃO-RESPOSTA.

11 - Os três últimos candidatos só poderão sair juntos e após assinar a ata de registro.

12 - Esta prova tem a duração de 3 (TRÊS) HORAS.

13 - O gabarito será divulgado conforme cronograma anexo ao edital.

OBS.: Candidatos que possuem cabelos longos deverão deixar as orelhas totalmente descobertas durante a realização das provas. É proibido o uso de boné e viseira. Não é permitido ao candidato utilizar ou portar, mesmo que desligados, durante a realização do teste, telefones celulares, máquinas e/ou relógios de calcular, bem como fones de ouvido ou fonte de consulta de qualquer espécie.

AGUARDE A ORDEM DO FISCAL PARA ABRIR ESTE CADERNO DE QUESTÕES.

01	02	03	04	05	06	07	08	09	10
11	12	13	14	15	16	17	18	19	20
21	22	23	24	25	26	27	28	29	30
31	32	33	34	35	36	37	38	39	40

LÍNGUA PORTUGUESA – questões de 1 a 10

QUESTÃO 1



— Pô, meo, vô pegá o busão pro trampo hoje. C tá ligado que tô no maior corre.

— Ouvi dizer que tá mó trânsito pros lados da Estaiada.



— Que zica! Ainda tinha que passar no Sacolão e comprar mexerica...

— Então, vaza! E não se esqueça de botá o CPF na nota.



Disponível em: <https://tecnoblog.net>. Acesso em: 19 dez. 2022. (adaptado)

Baseando-se nas variedades linguísticas presentes no diálogo acima, pode-se afirmar que os falantes

- (A) valorizam a linguagem profissional.
- (B) pertencem a classes sociais diferentes.
- (C) nasceram em diferentes épocas históricas.
- (D) interagem em uma situação comunicativa informal.

QUESTÃO 2

Uma mansão em um bairro nobre e a sua moradora reclusa estão despertando muita curiosidade na capital paulista. O local virou uma espécie de ponto turístico. [...]

Uma investigação de seis meses do jornalista Chico Felitti: o caso de uma mulher que vive sozinha, em uma casa caindo aos pedaços e que foi procurada por anos pelo FBI para ser ouvida.

O crime: manter uma senhora nos Estados Unidos, em condições análogas à escravidão, por cerca de 20 anos.

Nossa equipe conseguiu localizar, nos Estados Unidos, vizinhos que moravam bem próximos à casa de Margarida Bonetti. Eles contaram como a empregada dela era tratada na casa.

“Ela morava num porão, não tinha condições sanitárias, estava praticamente reclusa ali embaixo. Nós não acreditamos no que ela falava, então fomos lá, dentro da casa, na cozinha, ela tinha duas geladeiras lado a lado. Uma delas tinha uma corrente e um cadeado, impressionante. A outra era dela. Só tinha lá dentro arroz e feijão, é impressionante”, conta um vizinho.

“ELA morava em um porão”, diz vizinho sobre como empregada da “mulher da casa abandonada” era tratada nos EUA. G1. Disponível em: <https://g1.globo.com>. Acesso em: 16 out. 2022. (adaptado)

Na fala citada no parágrafo final do texto, fica evidente uma marca característica de sequências descritivas, que é a utilização

- (A) de estruturas comparativas.
- (B) da interlocução marcada com o leitor.
- (C) de linguagem culta para demarcar objetividade.
- (D) do verbo “ter” no pretérito imperfeito do indicativo.

QUESTÃO 3



Disponível em: <https://www.camara.leg.br>. Acesso em: 11 jan. 2023.

Analisando-se o contexto de uso, a expressão “Respeita as mina” apresenta um desvio à norma-padrão da língua portuguesa, justificado pela

- (A) predominância do uso de gírias em campanhas publicitárias governamentais.
- (B) priorização de uma linguagem formal para o contexto midiático.
- (C) tentativa de aproximação com o público-alvo da campanha.
- (D) forma como a mulher é representada na peça publicitária.

QUESTÃO 4

Cálice

Pai, afasta de mim esse cálice
Pai, afasta de mim esse cálice
Pai, afasta de mim esse cálice
De vinho tinto de sangue
(Cálice, de Gilberto Gil e Chico Buarque)

O uso da vírgula na canção

- (A) está de acordo com a norma-padrão da língua portuguesa e se justifica por separar aposto.
- (B) está de acordo com a norma-padrão da língua portuguesa e se justifica por separar sujeito.
- (C) está de acordo com a norma-padrão da língua portuguesa e se justifica por separar vocativo.
- (D) está de acordo com a norma-padrão da língua portuguesa e se justifica por separar termo deslocado.

QUESTÃO 5


[...] Podemos pensar a construção da ciência como análoga à imagem de uma pirâmide, onde nenhum conhecimento nasce se não tiver bases nas quais se apoiar. [...]

PAIXÃO, Christiane Vecchi da; VITÓRIA, Juliana Corte. Sobre os ombros de gigantes. Rev. CEPdePA, v. 23, 2016. Disponível em: <https://cepdepa.com.br>. Acesso em: 30 maio 2022.

No trecho “onde nenhum conhecimento nasce se não tiver bases nas quais se apoiar”, o verbo “tiver” encontra-se no modo

- (A) imperativo, pois indica uma ordem.
- (B) indicativo, pois expressa uma certeza.
- (C) infinitivo, pois destaca uma ação sem fixar seu tempo.
- (D) subjuntivo, pois retrata uma suposição ou possibilidade.

QUESTÃO 6



Os bebês têm uma necessidade muito grande de interação para que o cérebro e a linguagem se desenvolva.

Assinale a alternativa em que o período deve ser completado pela mesma preposição que rege o nome **necessidade**.

- (A) Imbuído _____ preconceitos, com tendência à intolerância, era impermeável a qualquer influência.
- (B) Sua avidez _____ lucros e riquezas não era compatível com seus sentimentos de amor ao próximo.
- (C) A difícil situação em que se encontrava naquele momento era análoga _____ crise de anos atrás.
- (D) O orador estava apto _____ responder a todas as questões.

QUESTÃO 7

Abissal, água e sal
Vivo parado na esquina vendo abrir o sinal
Finjo a dor de um amor
Que acelera o peito **deveras** e espera no ato final
Todo dia vivo a procurar
Um elixir, um momento de som, um invento
Que me faça vibrar
“Deveras”, de Vander Lee.

Os termos em destaque no trecho da canção classificam-se, respectivamente, como

- (A) verbo e advérbio.
- (B) substantivo e conjunção.
- (C) verbo e pronome relativo.
- (D) advérbio e pronome relativo.

QUESTÃO 8

Chove lá fora
E aqui tá tanto frio
Me dá vontade de saber
[...]
Nem sempre se vê
Lágrima no escuro
Lágrima no escuro
Lágrima!

Tá tudo cinza sem você
Tá tão vazio
E a noite fica
Sem por quê
Aonde está você?
Me telefona
Me chama!
Me chama!
Me chama
Nem sempre se vê!
Mágica no absurdo
Mágica no absurdo Mágica!
“Me chama”, de Lobão

Na canção, há transgressões da norma-culta que ajudam a construir o tom informal do eu lírico. Essas transgressões são de

- (A) regência nominal.
- (B) concordância verbal.
- (C) concordância nominal.
- (D) colocação pronominal.

QUESTÃO 9

Nos versos abaixo ocorre o emprego da linguagem figurada (conotação).

“Choram as rosas
Porque não quero estar aqui
Sem seu perfume
Porque já sei que te perdi
E entre outras coisas
Eu choro por ti.”

(Trecho da Música “Choram as Rosas”, de Bruno & Marrone)

Indique a alternativa em que o termo em destaque não foi empregado no sentido figurado.

- (A) Quando eu tinha seis anos
Não pude ver o fim da festa de São João
Porque **adormeci**.
(Manuel Bandeira)
- (B) É de laço e de nó
De gibeira o jiló
Dessa vida, **cumprida a sol** (....)”
(Renato Teixeira)
- (C) Mas sei que nada do que vivemos
tem sentido,
se não tocamos o coração das pessoas.”
(Cora Coralina)
- (D) **Amor é fogo que arde sem se ver**
É ferida que dói, e não se sente
É um contentamento descontente
É dor que desatina sem doer.
(Camões)

QUESTÃO 10



Quanto ao emprego da crase na embalagem acima, podemos afirmar que

- (A) é facultativo.
- (B) está correto, pois à passarinho é uma locução prepositiva.
- (C) está correto, pois está subentendida a expressão à moda de.
- (D) está incorreto, pois antes de palavras masculinas não se usa crase.

MATEMÁTICA – questões de 11 a 20

QUESTÃO 11

Na turma do 7º ano B da Escola de Ensino Fundamental da cidade de Alegria estudam 42 alunos. Nós queremos encontrar dois alunos que coincidentemente nasceram no mesmo dia da semana (segunda-feira, terça-feira, quarta-feira, quinta-feira, sexta-feira, sábado ou domingo).

Quantos alunos, no mínimo, deveremos chamar dentre estes 42 alunos para termos certeza de que teremos dois alunos que nasceram no mesmo dia da semana?

- (A) 7 alunos
- (B) 8 alunos
- (C) 14 alunos
- (D) 21 alunos

QUESTÃO 12

Na padaria Pão de Mel, do Sr. Armando, o quilograma de pão francês é vendido por R\$ 18,09. Mariana foi comprar pão para café da manhã e, os 8 pães que ela comprou pesaram juntos 387 gramas. Mariana pagou a sua compra com uma nota de R\$ 10,00.

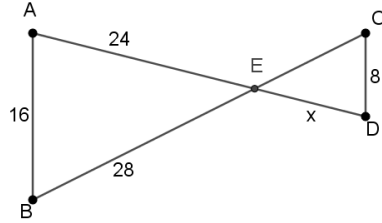
Quanto ela recebeu de troco no caixa?

(Obs.: considere apenas duas casas decimais para o cálculo do valor)

- (A) R\$ 1,00
- (B) R\$ 2,50
- (C) R\$ 3,00
- (D) R\$ 4,45

QUESTÃO 13

Observe a figura:



Sabendo que \overline{AB} é paralelo a \overline{CD} , o valor x que é o segmento \overline{DE} é:

- (A) 8
- (B) 10
- (C) 12
- (D) 16

QUESTÃO 14

A densidade demográfica é um indicador populacional que mede a relação entre a população absoluta e a extensão territorial, sendo expressa em habitantes/quilômetro quadrado.

Disponível em: <https://mundoeducacao.uol.com.br/geografia/densidade-demografica.htm>
Acesso dia: 13 de maio de 2023.

Uma população de 465.000 habitantes distribuídos em um território de 1.240 km² perfaz a densidade demográfica de:

- (A) 275 hab./km²
- (B) 375 hab./km²
- (C) 475 hab./km²
- (D) 575 hab./km²

QUESTÃO 15

A fatoração completa em números primos do número 140 é

- (A) $4 \times 5 \times 7$
- (B) 4×35
- (C) $2 \times 2 \times 35$
- (D) $2 \times 2 \times 5 \times 7$

QUESTÃO 16

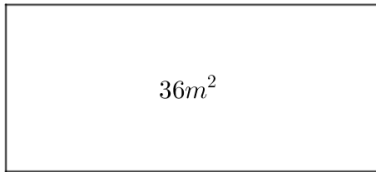
Ao fazer uma pesquisa no mercado de automóveis, constatou-se que um carro da montadora A custa o dobro do carro de uma montadora B. Sabendo-se que para comprarmos um carro da montadora A e um carro da montadora B necessitaríamos dispor de R\$ 143.451,00.

Quanto custa o carro da montadora A?

- (A) R\$ 95.634,00
- (B) R\$ 71.725,50
- (C) R\$ 47.817,00
- (D) R\$ 35.862,75

QUESTÃO 17

Na figura abaixo, sabe-se que neste retângulo, a área é de 36 m^2 e o comprimento deste retângulo tem 5 metros a mais que a largura.



Nessas condições, quanto mede a largura deste retângulo?

- (A) 4 metros
- (B) 5 metros
- (C) 6 metros
- (D) 7 metros

QUESTÃO 18

Em um teste simulado para a obtenção da Carteira Nacional de Habilitação, o aluno obteve os seguintes resultados:

- 1ª tentativa: **22 acertos**
- 2ª tentativa: **29 acertos**
- 3ª tentativa: **16 acertos**
- 4ª tentativa: **28 acertos**
- 5ª tentativa: **25 acertos**

Com base nos resultados obtidos nas 5 tentativas feitas por esse aluno, é correto afirmar que a média de acertos praticados por esse aluno foi:

- (A) 24 acertos
- (B) 25 acertos
- (C) 26 acertos
- (D) 27 acertos

QUESTÃO 19

Sejam dois números distintos, inteiros e positivos tais que a soma destes números é 13 e o produto entre eles é 40. O menor desses dois números é:

- (A) 4
- (B) 5
- (C) 6
- (D) 7

QUESTÃO 20

Fatorando a expressão algébrica $\frac{m^2+mn}{m^2+mn-n-m}$, a expressão que melhor representa essa fatoração é

- (A) $\frac{1}{-n-m}$
- (B) $-\frac{1}{m+n}$
- (C) $\frac{m}{m+1}$
- (D) $\frac{m}{m-1}$

CONHECIMENTOS ESPECÍFICOS DO CARGO – questões de 21 a 35

CASO CLÍNICO PARA AS QUESTÕES DE 21 A 25.

Paciente L. J. S., do sexo masculino, 54 anos de idade, compareceu à clínica LUME ODONTOLOGIA com a queixa de dor e “sensação de dente se mexendo” no elemento 16. No exame clínico, foi detectada mobilidade grau III, grande destruição coronária nas faces ocluso-distal e recessão extensa na face vestibular. Foi solicitado um exame radiográfico que constatou a presença de cárie radicular no mesmo. Analisou-se também a ausência dos elementos 11, 12, 13, 21, 22, 23, 18 e 28 e presença dos outros dentes hígidos, exceto o elemento 16. O paciente já estava em tratamento para a fabricação de uma prótese superior, então a indicação para a sua queixa foi uma exodontia.

QUESTÃO 21

A organização instrumental na mesa cirúrgica do CD é de grande importância para a realização de uma exodontia, pois sua função é agilizar e facilitar a realização do procedimento com excelência. Para isso, é necessário seguir a sequência dos tempos cirúrgicos fundamentais: Diérese, Hemostasia, Exérese e Síntese.

Qual opção contém a ordem correta do uso dos instrumentos para a remoção segura do elemento 16?

- (A) Bisturi, Pinça Kelly, Fórceps 18R, Porta-agulha Mathieu
- (B) Porta-agulha Mathieu, Pinça Mixter, Bisturi, Fio de sutura
- (C) Bisturi, Pinça de Halsted, Fórceps 69, Porta-agulha Mathieu
- (D) Tesoura de Metzenbaum, Pinça Kelly, Fórceps 18R, Fio de sutura

QUESTÃO 22

Qual o nome do dente que foi indicado para a exodontia e qual fórceps deve ser utilizado no procedimento?

- (A) Primeiro pré-molar superior, Fórceps 151
- (B) Primeiro molar superior, Fórceps 18R
- (C) Segundo molar inferior, Fórceps 151
- (D) Terceiro molar superior, Fórceps 69

QUESTÃO 23

De acordo com as informações sobre o paciente L. J. S., qual o tipo de prótese será indicado para a sua arcada superior?

- (A) Prótese Total
- (B) Prótese Fixa unitária
- (C) Prótese sobre implante
- (D) Prótese Parcial Removível

QUESTÃO 24

Foi realizada a exodontia do elemento 16 no paciente do relato de caso acima.

Assinale a alternativa com algumas das recomendações para um pós-cirúrgico seguro.

- (A) Evitar alimentos e bebidas quentes, não fumar, repouso.
- (B) Ingerir alimentos quentes, repouso, fazer bochechos 3x/dia.
- (C) Beber água gelada, fazer atividade física, evitar bebidas alcoólicas.
- (D) Não escovar os dentes, fazer atividade física moderada, não fumar.

QUESTÃO 25

Sete dias após a exodontia, o paciente retornou à clínica para a retirada dos pontos.

Quais os instrumentos necessários para a remoção da sutura?

- (A) Descolador de molt, porta-agulha e pinça
- (B) Espelho, pinça e fórceps 150
- (C) Espelho, pinça e tesoura
- (D) Pinça, cureta e tesoura

QUESTÃO 26

O Tratamento Restaurador Atraumático, também conhecido por sua sigla em inglês (ART) é uma técnica restauradora que utiliza apenas instrumentos manuais, sem uso de brocas.

Nessa técnica, qual material é usado para restaurar?

- (A) Amálgama
- (B) Resina composta
- (C) Cimento Fosfato de zinco
- (D) Cimento de Ionômero de vidro

QUESTÃO 27

A paciente N. A. M., do sexo feminino, idade 27 anos, dirigiu-se ao consultório odontológico com a queixa de sensibilidade nos dentes ao beber água gelada. No exame clínico, o cirurgião dentista identificou a presença de cárie em alguns dentes e solicitou à auxiliar de saúde bucal que fizesse o exame radiográfico dos elementos 21, 36 e 38.

Qual alternativa abaixo contém os nomes dos elementos solicitados?

- (A) Canino superior, primeiro molar superior, segundo molar inferior
- (B) Incisivo central superior, primeiro molar inferior, terceiro molar inferior
- (C) Incisivo lateral superior, primeiro molar inferior, segundo molar inferior
- (D) Incisivo central inferior, primeiro molar superior, segundo molar superior

QUESTÃO 28

O artigo 7º do CÓDIGO DE ÉTICA ODONTOLÓGICA, aprovado pela Resolução CFO-118/2012, trata dos direitos fundamentais dos técnicos em saúde bucal e auxiliares em saúde bucal.

Não constitui direito fundamental dos técnicos e auxiliares em saúde bucal, conforme o artigo 7º do Código de Ética Odontológica:

- (A) resguardar o segredo profissional.
- (B) recusar-se a exercer a profissão em âmbito público ou privado onde as condições de trabalho não sejam dignas, seguras e salubres.
- (C) executar, sob a supervisão do cirurgião-dentista, os procedimentos constantes na Lei nº 11.889/2008 e nas Resoluções do Conselho Federal.
- (D) cumprir e fazer cumprir os preceitos éticos e legais da profissão, e com discricção e fundamento, comunicar ao Conselho Regional fatos de que tenham conhecimento e caracterizem possível infringência do presente Código e das normas que regulam o exercício da Odontologia.

QUESTÃO 29

O exame radiográfico é um tipo de exame para complementar o exame clínico.

Qual é o tipo de radiografia indicada para diagnosticar reabsorções ósseas e radiculares, cistos e tumores?

- (A) Oclusal
- (B) Periapical
- (C) Panorâmica
- (D) Interproximal

QUESTÃO 30

A esterilização é um processo que visa a destruir todas as formas de vida microbianas que possam contaminar materiais e objetos. São eliminados durante a esterilização organismos como vírus, bactérias e fungos.

Dentre as infecções virais, qual a mais resistente aos procedimentos de esterilização?

- (A) HIV
- (B) HERPES
- (C) HEPATITE
- (D) ZIKA VÍRUS

QUESTÃO 31

A LEI Nº 11.889, DE 24 DE DEZEMBRO DE 2008, regulamenta o exercício das profissões de Técnico em Saúde Bucal - TSB - e de Auxiliar em Saúde Bucal - ASB.

Conforme o Art. 6º da referida lei, é vedado ao Técnico em Saúde Bucal, exceto:

- (A) aplicar medidas de biossegurança no armazenamento, manuseio e descarte de produtos e resíduos odontológicos.
- (B) fazer propaganda de seus serviços, exceto em revistas, jornais e folhetos especializados da área odontológica.
- (C) prestar assistência direta ou indireta ao paciente, sem a indispensável supervisão do cirurgião-dentista.
- (D) exercer a atividade de forma autônoma.

QUESTÃO 32

A cárie ainda é uma doença muito prevalente em todo o mundo. Quando detectamos uma lesão cariiosa, o tratamento deve abranger além da lesão, a doença. Ao realizar o diagnóstico da lesão, é importante distinguir se ela está ativa ou inativa, pois isso influenciará na decisão ou não do tratamento.

Qual afirmação abaixo descreve sinais da cárie inativa?

- (A) Mancha branca, opaca e sem brilho.
- (B) Dentina presente escura, seca e brilhante.
- (C) Aspecto de tecido amolecido na cavidade.
- (D) Porosidade e cor branca do esmalte ao redor da cavidade.

QUESTÃO 33

O paciente M. A. P., sexo masculino, 27 anos de idade, chegou ao consultório com uma requisição do seu ortodontista para extrair os elementos 14 e 15.

Nesse caso, qual fórceps é indicado para os procedimentos solicitados?

- (A) 18L

- (B) 151
- (C) 150
- (D) 18R

QUESTÃO 34

Sabemos que o flúor é um elemento químico muito importante para a saúde bucal, pois evita que os dentes percam minerais e impede o desgaste causado pelas bactérias formadoras da cárie e pelas substâncias ácidas presentes na alimentação.

Assinale a afirmação correta sobre esse mineral.

- (A) O uso do flúor é suficiente para a completa prevenção da cárie.
- (B) Adultos devem fazer a aplicação do flúor no consultório odontológico no mínimo 1x/mês.
- (C) O creme dental sem flúor é o mais indicado para se ter em casa devido aos riscos do uso em excesso.
- (D) A superdosagem por tempo prolongado pode causar a chamada fluorose, que provoca manchas brancas ou castanhas nos dentes.

QUESTÃO 35

São exemplos de procedimentos que a ASB pode realizar.

- (A) Ações de promoção e de prevenção em saúde bucal
- (B) Colagem de braquetes
- (C) Restaurações simples
- (D) Clareamento dental

CONHECIMENTOS LOCAIS E ATUALIDADES – questões de 36 a 40

Leia o texto para responder às questões 36 e 37.

HISTÓRIA DA CIDADE DE FRANCISCO MACEDO



IMAGEM: Infnews – 2022

Francisco Macedo teve origem com a chegada da família do Sr. (...), filho da Sra. (...), que se instalou às margens do Rio Curimatá, onde criou a Fazenda Canabrava, nome este que perdurou por várias décadas, sendo, em 1958, elevado à categoria de Povoado através da Lei nº. 8410.

Só a partir do ano de 1995, com o desmembramento e emancipação política, a antiga Canabrava deixou de fazer parte do município de Padre Marcos tornando-se independente e passando assim a chamar-

-se Francisco Macedo, nome dado em homenagem ao Ex-Prefeito de Padre Marcos e Médico, Dr. Francisco Luís de Macedo.

Formação Administrativa

Elevado à categoria de município e distrito com a denominação de Francisco Macedo, pela Lei Estadual nº (...), de 14-12-1995, desmembrado de Padre Marcos. Sede no atual distrito de Francisco Macedo (ex-povoado). Constituído do distrito sede. Instalado em 01-01-1997. Em divisão territorial datada de 2001, o município é constituído do distrito sede. Assim permanecendo em divisão territorial datada de 2007.

Disponível em: https://www.cidadesdomeubrasil.com.br/pi/francisco_macedo. Acesso em: 11.jul.23.

QUESTÃO 36

A respeito dos patriarcas que criaram a fazenda, hoje cidade de Francisco Macêdo, marque a alternativa que preenche corretamente os parênteses do texto acima.

- (A) Sr. Valério Coelho Rodrigues, filho da Sra. Maria Antão de Alencar Bezerra
- (B) Sr. Francisco Luís de Macêdo, filho da Sra. Domiciana Vieira de Alencar
- (C) Sr. Pe. Marcos de Araújo Costa, filho da Sra. Maria Rodrigues Santana
- (D) Sr. Joaquim Antão de Carvalho, filho da Sra. Bárbara de Alencar

QUESTÃO 37

Francisco Macêdo foi elevado à categoria de município através de qual Lei Estadual?

- (A) Lei nº 6710, de 14-12-1995
- (B) Lei nº 5910, de 14-12-1995
- (C) Lei nº 4810, de 14-12-1995
- (D) Lei nº 3640, de 14-12-1995

QUESTÃO 38

O que é PIB dos municípios?



O que é o PIB

O PIB é a soma de todos os bens e serviços finais produzidos por um país, estado ou cidade, geralmente em um ano. Todos os países calculam o seu PIB nas suas respectivas moedas. O PIB do Brasil em 2022, por exemplo, foi de R\$ 9,9 trilhões.

De acordo com o dados do Instituto Brasileiro de Geografia e Estatística – IBGE (2020), o PIB de Francisco Macêdo, corresponde a:

- (A) R\$ 10.864,74 PIB per capita
- (B) R\$ 10.101,85 PIB per capita
- (C) R\$ 9.440,74 PIB per capita
- (D) R\$ 7.447,75 PIB per capita

QUESTÃO 39

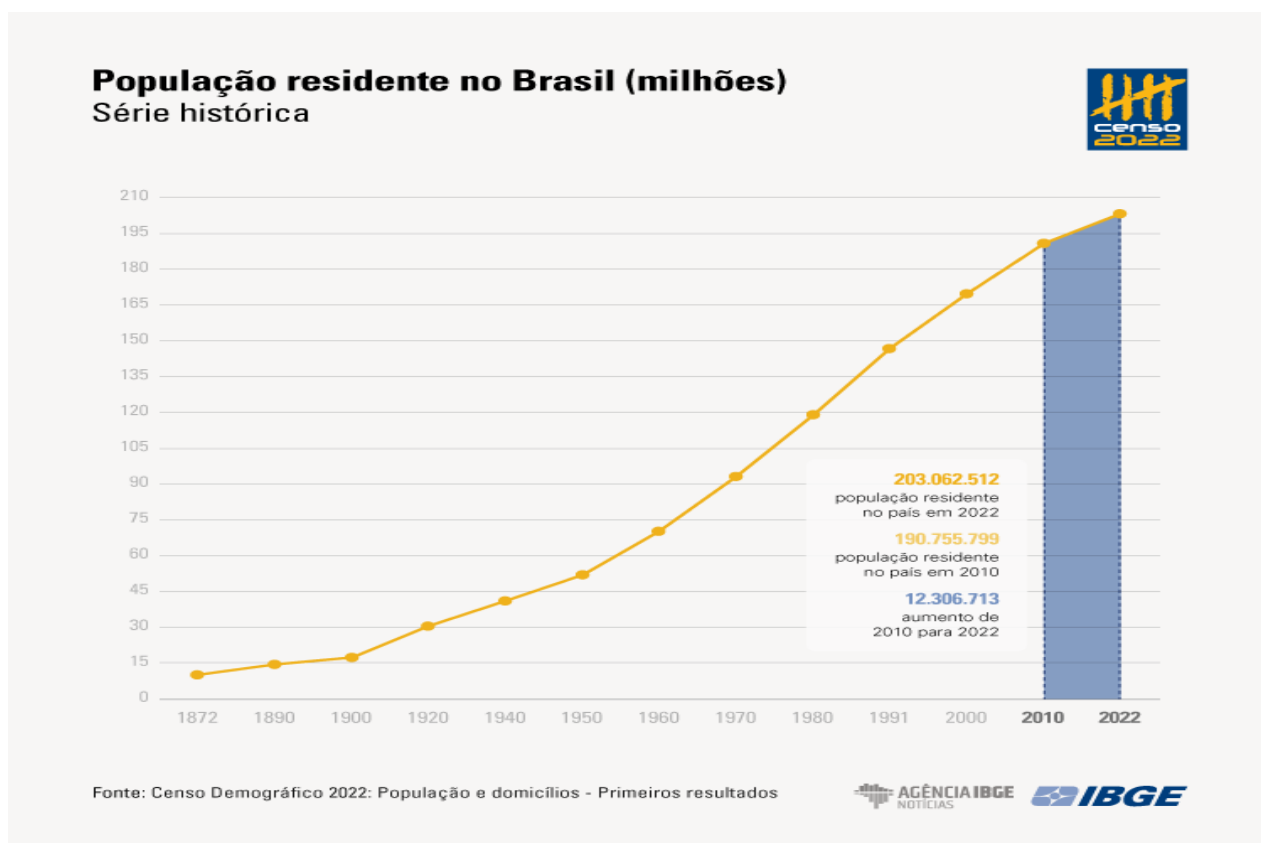
Censo 2022

DE 2010 A 2022, POPULAÇÃO BRASILEIRA CRESCE 6,5% E CHEGA A 203,1 MILHÕES

Em 1º de agosto de 2022, o Brasil tinha 203.062.512 habitantes. Desde 2010, quando foi realizado o Censo Demográfico anterior, a população do país cresceu 6,5%, ou 12.306.713 pessoas a mais. Isso resulta em uma taxa de crescimento anual de 0,52%, a menor já observada desde o início da série histórica iniciada

em 1872, ano da primeira operação censitária do país. Os dados são dos primeiros resultados do Censo Demográfico de 2022, divulgados hoje (28) pelo IBGE.

Nos 150 anos que separam a primeira operação censitária da última, o Brasil aumentou a sua população em mais de 20 vezes: ao todo, um acréscimo de 193,1 milhões de habitantes. O maior crescimento, em números absolutos, foi registrado entre as décadas de 70 e 80, quando houve uma adição de 27,8 milhões de pessoas. Mas a série histórica do Censo mostra que a média anual de crescimento vem diminuindo desde a década de 60. “Em 2022, a taxa de crescimento anual foi reduzida para menos da metade do que era em 2010 (1,17%)”, afirma o coordenador técnico do Censo, Luciano Duarte.



Disponível em: <https://agenciadenoticias.ibge.gov.br/agencia-noticias/2012-agencia-de-noticias/noticias/37237-de-2010-a-2022-populacao-brasileira-cresce-6-5-e-chega-a-203-1-milhoes>. Acesso em: 11.jul. 23.

De acordo com o Censo demográfico (2022), a população de Francisco Macêdo é de 2.929 pessoas, apresentando Densidade Demográfica de

- (A) 17,7 habitante por quilometro quadrado.
- (B) 16,34 habitante por quilometro quadrado.
- (C) 19,01 habitante por quilometro quadrado.
- (D) 12,36 habitante por quilometro quadrado.

QUESTÃO 40

PRÉDIO MAIS ALTO DO BRASIL É FINALIZADO EM BALNEÁRIO CAMBORIÚ

Balneário Camboriú, no litoral norte de Santa Catarina, recebeu, (...), o edifício mais alto do Brasil em todas as categorias e o maior residencial de toda a América Latina. O prédio foi entregue pela construtora FG, com apartamentos divididos em 84 pavimentos, no valor médio de R\$ 12 milhões, e 290 metros de altura.

Além do valor das unidades do imóvel, os quais todos já foram vendidos, a construção tem números ainda mais impressionantes. Foram utilizadas mais de 9 mil toneladas de aço, 5 mil toneladas de contrapiso e reboco e cerca de 25 mil metros cúbicos de concreto.

Há apenas dois apartamentos em cada um dos 84 andares do (...). São 70 habitáveis por moradores e 20 reservados para área de lazer.

Cinco elevadores de última geração, de alta performance, foram instalados no local para dar conta dos 290m de altura, com direito a "velocidade a jato" de cinco metros por segundo. Este poderio do equipamento faz com que a "viagem" entre os blocos seja de cinco metros por segundo.



Foto: Reprodução Google

Construtora responsável investiu mais de R\$ 650 milhões no projeto, que estava em execução desde 2007.

O presidente e cofundador da FG, Jean Graciola, destacou o comprometimento de toda a equipe que participou da construção.

— O (...) é a realização de um sonho, uma obra marcante em nossa trajetória. Um sonho que começou lá em 2007 com a aquisição do terreno. Crescemos como empresa, buscamos tecnologias, parcerias, rodamos o mundo em busca de novidades e também investimos no desenvolvimento de processos para o avanço de toda a cadeia produtiva — relatou.

Curiosidades sobre o Edifício

1. É o edifício mais alto do Brasil, entre todas as categorias, e o maior residencial da América Latina.
2. É o 32º prédio residencial mais alto do mundo.
3. A construção integra o projeto de transformar o skyline (linha do horizonte) de Balneário Camboriú.
4. 2 mil colaboradores se dedicaram à realização e entrega da obra.
5. Os elevadores deste empreendimento percorrem o prédio em menos de 1 minuto.

Disponível em: <https://gauchazh.clicrbs.com.br/economia/noticia/2022/12/predio-mais-alto-do-brasil-e-finalizado-em-balneario-camboriu-clby1bg5d00a70182p4pn56d4.html>. Acesso em: 11.jul.2023.

O nome do edifício a que a matéria se refere é

- (A) Orion Business & Health Complex
- (B) Yachthouse by Pininfarina
- (C) Infinity Coast
- (D) One Tower