



EDITAL Nº 01/2023 - SELEÇÃO SIMPLIFICADA DE VAGAS PARA PREENCHIMENTO DE CARGOS TEMPORÁRIOS DE EXCEPCIONAL INTERESSE PÚBLICO, PARA ATENDER À DEMANDA MUNICIPAL DA PREFEITURA MUNICIPAL DE FRANCISCO MACÊDO – PI



CADERNO DE PROVAS

AGENTE COMUNITÁRIO DE SAÚDE

Editais Nº. 01/2023 – Prefeitura Municipal de Francisco Macêdo - PI

06 de agosto de 2023

ORIENTAÇÕES IMPORTANTES

- 01** - Este caderno contém 40 questões, numeradas de 1 a 40, do tipo múltipla escolha, dispostas da seguinte maneira:
- questões de 1 a 10, relativas à Língua Portuguesa;
 - questões de 11 a 20, relativas à Matemática;
 - questões de 21 a 35, relativas a Conhecimentos Específicos do Cargo;
 - questões de 36 a 40, relativas a Conhecimentos Locais e Atualidade.
- 02** - Verifique se a quantidade e a ordem das questões do seu CADERNO DE QUESTÕES estão de acordo com as informações anteriores.
- 03** - Confira se o caderno contém falhas: folha em branco, má impressão, páginas trocadas, numeração errada, etc. Encontrando falhas, levante a mão. O fiscal o atenderá e trocará o seu caderno.
- 04** - Cada questão tem 4 (quatro) alternativas (A - B - C - D). Apenas 1 (uma) resposta é correta. Não marque mais de uma resposta para a mesma questão, nem deixe nenhuma delas sem resposta. Se isso acontecer, a questão será anulada.
- 05** - Transcreva para a folha de respostas, com caneta de tinta azul ou preta, todas as respostas marcadas na prova. Assinale a resposta certa, preenchendo toda a área.
- 06** - Tenha cuidado na marcação do Cartão-resposta, pois ele não será substituído em hipótese alguma.
- 07** - Confira e assine o Cartão-resposta antes de entregá-lo ao Fiscal. **NA FALTA DA ASSINATURA, O CANDIDATO SERÁ ELIMINADO DO CERTAME.**
- 08** - O candidato assinará a ATA DE PRESENÇA, conforme o cargo ao qual concorre, bem como registrará a DIGITAL na mesma.
- 09** - Após DUAS HORAS do início das provas, o candidato poderá retirar-se da sala de aplicação de provas, sem levar este caderno, que será postado no site.
- 10** - Ao sair, o candidato entregará ao fiscal o CARTÃO-RESPOSTA.
- 11** - Os três últimos candidatos só poderão sair juntos e após assinar a ata de registro.
- 12** - Esta prova tem a duração de 3 (TRÊS) HORAS.
- 13** - O gabarito será divulgado conforme cronograma anexo ao edital.
- OBS.:** Candidatos que possuem cabelos longos deverão deixar as orelhas totalmente descobertas durante a realização das provas. É proibido o uso de boné e viseira. Não é permitido ao candidato utilizar ou portar, mesmo que desligados, durante a realização do teste, telefones celulares, máquinas e/ou relógios de calcular, bem como fones de ouvido ou fonte de consulta de qualquer espécie.

AGUARDE A ORDEM DO FISCAL PARA ABRIR ESTE CADERNO DE QUESTÕES.

01	02	03	04	05	06	07	08	09	10
11	12	13	14	15	16	17	18	19	20
21	22	23	24	25	26	27	28	29	30
31	32	33	34	35	36	37	38	39	40

LÍNGUA PORTUGUESA – questões de 1 a 10

QUESTÃO 1



— Pô, meo, vô pegá o busão pro trampo hoje. C tá ligado que tô no maior corre.

— Ouvi dizer que tá mó trânsito pros lados da Estaiada.



— Que zica! Ainda tinha que passar no Sacolão e comprar mexerica...

— Então, vaza! E não se esqueça de botá o CPF na nota.



Disponível em: <https://tecnoblog.net>. Acesso em: 19 dez. 2022. (adaptado)

Baseando-se nas variedades linguísticas presentes no diálogo acima, pode-se afirmar que os falantes

- (A) valorizam a linguagem profissional.
- (B) pertencem a classes sociais diferentes.
- (C) nasceram em diferentes épocas históricas.
- (D) interagem em uma situação comunicativa informal.

QUESTÃO 2

Uma mansão em um bairro nobre e a sua moradora reclusa estão despertando muita curiosidade na capital paulista. O local virou uma espécie de ponto turístico. [...]

Uma investigação de seis meses do jornalista Chico Felitti: o caso de uma mulher que vive sozinha, em uma casa caindo aos pedaços e que foi procurada por anos pelo FBI para ser ouvida.

O crime: manter uma senhora nos Estados Unidos, em condições análogas à escravidão, por cerca de 20 anos.

Nossa equipe conseguiu localizar, nos Estados Unidos, vizinhos que moravam bem próximos à casa de Margarida Bonetti. Eles contaram como a empregada dela era tratada na casa.

“Ela morava num porão, não tinha condições sanitárias, estava praticamente reclusa ali embaixo. Nós não acreditamos no que ela falava, então fomos lá, dentro da casa, na cozinha, ela tinha duas geladeiras lado a lado. Uma delas tinha uma corrente e um cadeado, impressionante. A outra era dela. Só tinha lá dentro arroz e feijão, é impressionante”, conta um vizinho.

“ELA morava em um porão”, diz vizinho sobre como empregada da “mulher da casa abandonada” era tratada nos EUA. G1. Disponível em: <https://g1.globo.com>. Acesso em: 16 out. 2022. (adaptado)

Na fala citada no parágrafo final do texto, fica evidente uma marca característica de sequências descritivas, que é a utilização

- (A) de estruturas comparativas.
- (B) da interlocução marcada com o leitor.
- (C) de linguagem culta para demarcar objetividade.
- (D) do verbo “ter” no pretérito imperfeito do indicativo.

QUESTÃO 3



Disponível em: <https://www.camara.leg.br>. Acesso em: 11 jan. 2023.

Analisando-se o contexto de uso, a expressão “Respeita as mina” apresenta um desvio à norma-padrão da língua portuguesa, justificado pela

- (A) predominância do uso de gírias em campanhas publicitárias governamentais.
- (B) priorização de uma linguagem formal para o contexto midiático.
- (C) tentativa de aproximação com o público-alvo da campanha.
- (D) forma como a mulher é representada na peça publicitária.

QUESTÃO 4

Cálice

Pai, afasta de mim esse cálice
Pai, afasta de mim esse cálice
Pai, afasta de mim esse cálice
De vinho tinto de sangue
(Cálice, de Gilberto Gil e Chico Buarque)

O uso da vírgula na canção

- (A) está de acordo com a norma-padrão da língua portuguesa e se justifica por separar aposto.
- (B) está de acordo com a norma-padrão da língua portuguesa e se justifica por separar sujeito.
- (C) está de acordo com a norma-padrão da língua portuguesa e se justifica por separar vocativo.
- (D) está de acordo com a norma-padrão da língua portuguesa e se justifica por separar termo deslocado.

QUESTÃO 5


[...] Podemos pensar a construção da ciência como análoga à imagem de uma pirâmide, onde nenhum conhecimento nasce se não tiver bases nas quais se apoiar. [...]

PAIXÃO, Christiane Vecchi da; VITÓRIA, Juliana Corte. Sobre os ombros de gigantes. Rev. CEPdePA, v. 23, 2016. Disponível em: <https://cepdepa.com.br>. Acesso em: 30 maio 2022.

No trecho “onde nenhum conhecimento nasce se não tiver bases nas quais se apoiar”, o verbo “tiver” encontra-se no modo

- (A) imperativo, pois indica uma ordem.
- (B) indicativo, pois expressa uma certeza.
- (C) infinitivo, pois destaca uma ação sem fixar seu tempo.
- (D) subjuntivo, pois retrata uma suposição ou possibilidade.

QUESTÃO 6



Os bebês têm uma necessidade muito grande de interação para que o cérebro e a linguagem se desenvolva.

Assinale a alternativa em que o período deve ser completado pela mesma preposição que rege o nome **necessidade**.

- (A) Imbuído _____ preconceitos, com tendência à intolerância, era impermeável a qualquer influência.
- (B) Sua avidez _____ lucros e riquezas não era compatível com seus sentimentos de amor ao próximo.
- (C) A difícil situação em que se encontrava naquele momento era análoga _____ crise de anos atrás.
- (D) O orador estava apto _____ responder a todas as questões.

QUESTÃO 7

Abissal, água e sal
Vivo parado na esquina vendo abrir o sinal
Finjo a dor de um amor
Que acelera o peito **deveras** e espera no ato final
Todo dia vivo a procurar
Um elixir, um momento de som, um invento
Que me faça vibrar
“Deveras”, de Vander Lee.

Os termos em destaque no trecho da canção classificam-se, respectivamente, como

- (A) verbo e advérbio.
- (B) substantivo e conjunção.
- (C) verbo e pronome relativo.
- (D) advérbio e pronome relativo.

QUESTÃO 8

Chove lá fora
E aqui tá tanto frio
Me dá vontade de saber
[...]
Nem sempre se vê
Lágrima no escuro
Lágrima no escuro
Lágrima!

Tá tudo cinza sem você
Tá tão vazio
E a noite fica
Sem por quê
Aonde está você?
Me telefona
Me chama!
Me chama!
Me chama
Nem sempre se vê!
Mágica no absurdo
Mágica no absurdo Mágica!
“Me chama”, de Lobão

Na canção, há transgressões da norma-culta que ajudam a construir o tom informal do eu lírico. Essas transgressões são de

- (A) regência nominal.
- (B) concordância verbal.
- (C) concordância nominal.
- (D) colocação pronominal.

QUESTÃO 9

Nos versos abaixo ocorre o emprego da linguagem figurada (conotação).

“Choram as rosas
Porque não quero estar aqui
Sem seu perfume
Porque já sei que te perdi
E entre outras coisas
Eu choro por ti.”

(Trecho da Música “Choram as Rosas”, de Bruno & Marrone)

Indique a alternativa em que o termo em destaque não foi empregado no sentido figurado.

- (A) Quando eu tinha seis anos
Não pude ver o fim da festa de São João
Porque **adormeci**.
(Manuel Bandeira)
- (B) É de laço e de nó
De gibeira o jiló
Dessa vida, **cumprida a sol** (....)”
(Renato Teixeira)
- (C) Mas sei que nada do que vivemos
tem sentido,
se não tocarmos o coração das pessoas.”
(Cora Coralina)
- (D) **Amor é fogo que arde sem se ver**
É ferida que dói, e não se sente
É um contentamento descontente
É dor que desatina sem doer.
(Camões)

QUESTÃO 10



Quanto ao emprego da crase na embalagem acima, podemos afirmar que

- (A) é facultativo.
- (B) está correto, pois à passarinho é uma locução prepositiva.
- (C) está correto, pois está subentendida a expressão à moda de.
- (D) está incorreto, pois antes de palavras masculinas não se usa crase.

MATEMÁTICA – questões de 11 a 20

QUESTÃO 11

Na turma do 7º ano B da Escola de Ensino Fundamental da cidade de Alegria estudam 42 alunos. Nós queremos encontrar dois alunos que coincidentemente nasceram no mesmo dia da semana (segunda-feira, terça-feira, quarta-feira, quinta-feira, sexta-feira, sábado ou domingo).

Quantos alunos, no mínimo, deveremos chamar dentre estes 42 alunos para termos certeza de que teremos dois alunos que nasceram no mesmo dia da semana?

- (A) 7 alunos
- (B) 8 alunos
- (C) 14 alunos
- (D) 21 alunos

QUESTÃO 12

Na padaria Pão de Mel, do Sr. Armando, o quilograma de pão francês é vendido por R\$ 18,09. Mariana foi comprar pão para café da manhã e, os 8 pães que ela comprou pesaram juntos 387 gramas. Mariana pagou a sua compra com uma nota de R\$ 10,00.

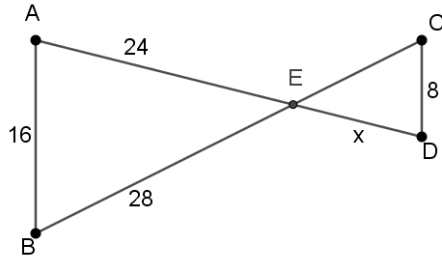
Quanto ela recebeu de troco no caixa?

(Obs.: considere apenas duas casas decimais para o cálculo do valor)

- (A) R\$ 1,00
- (B) R\$ 2,50
- (C) R\$ 3,00
- (D) R\$ 4,45

QUESTÃO 13

Observe a figura:



Sabendo que \overline{AB} é paralelo a \overline{CD} , o valor x que é o segmento \overline{DE} é:

- (A) 8
- (B) 10
- (C) 12
- (D) 16

QUESTÃO 14

A densidade demográfica é um indicador populacional que mede a relação entre a população absoluta e a extensão territorial, sendo expressa em habitantes/quilômetro quadrado.

Disponível em: <https://mundoeducacao.uol.com.br/geografia/densidade-demografica.htm>

Acesso dia: 13 de maio de 2023.

Uma população de 465.000 habitantes distribuídos em um território de 1.240 km² perfaz a densidade demográfica de:

- (A) 275 hab./km²
- (B) 375 hab./km²
- (C) 475 hab./km²
- (D) 575 hab./km²

QUESTÃO 15

A fatoração completa em números primos do número 140 é

- (A) 4x5x7
- (B) 4x35
- (C) 2x2x35
- (D) 2x2x5x7

QUESTÃO 16

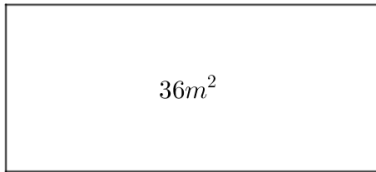
Ao fazer uma pesquisa no mercado de automotivos, constatou-se que um carro da montadora A custa o dobro do carro de uma montadora B. Sabendo-se que para comprarmos um carro da montadora A e um carro da montadora B necessitaríamos dispor de R\$ 143.451,00.

Quanto custa o carro da montadora A?

- (A) R\$ 95.634,00
- (B) R\$ 71.725,50
- (C) R\$ 47.817,00
- (D) R\$ 35.862,75

QUESTÃO 17

Na figura abaixo, sabe-se que neste retângulo, a área é de 36 m^2 e o comprimento deste retângulo tem 5 metros a mais que a largura.



Nessas condições, quanto mede a largura deste retângulo?

- (A) 4 metros
- (B) 5 metros
- (C) 6 metros
- (D) 7 metros

QUESTÃO 18

Em um teste simulado para a obtenção da Carteira Nacional de Habilitação, o aluno obteve os seguintes resultados:

- 1ª tentativa: **22 acertos**
- 2ª tentativa: **29 acertos**
- 3ª tentativa: **16 acertos**
- 4ª tentativa: **28 acertos**
- 5ª tentativa: **25 acertos**

Com base nos resultados obtidos nas 5 tentativas feitas por esse aluno, é correto afirmar que a média de acertos praticados por esse aluno foi:

- (A) 24 acertos
- (B) 25 acertos
- (C) 26 acertos
- (D) 27 acertos

QUESTÃO 19

Sejam dois números distintos, inteiros e positivos tais que a soma destes números é 13 e o produto entre eles é 40. O menor desses dois números é:

- (A) 4
- (B) 5
- (C) 6
- (D) 7

QUESTÃO 20

Fatorando a expressão algébrica $\frac{m^2+mn}{m^2+mn-n-m}$, a expressão que melhor representa essa fatoração é

- (A) $\frac{1}{-n-m}$
- (B) $-\frac{1}{m+n}$
- (C) $\frac{m}{m+1}$
- (D) $\frac{m}{m-1}$

CONHECIMENTOS ESPECÍFICOS DO CARGO – questões de 21 a 35

QUESTÃO 21

O Decreto nº 7.508/2011 regulamenta a Lei nº 8.080, de 19 de setembro de 1990, para dispor sobre a organização do Sistema Único de Saúde - SUS, o planejamento da saúde, a assistência à saúde e a articulação interfederativa.

Sobre as disposições do decreto, assinale a alternativa INCORRETA.

- (A) O processo de planejamento da saúde será ascendente e integrado, do nível local até o federal, ouvidos os respectivos Conselhos de Saúde, compatibilizando-se as necessidades das políticas de saúde com a disponibilidade de recursos financeiros.
- (B) Os serviços de atenção primária, de urgência e emergência, de atenção psicossocial e os serviços especiais de acesso aberto constituem as Portas de Entrada às ações e aos serviços de saúde nas Redes de Atenção à Saúde.
- (C) A Rede de Atenção à Saúde constitui um conjunto de ações e serviços de saúde articulados em níveis de complexidade crescente, com a finalidade de garantir a integralidade da assistência à saúde.
- (D) O acesso universal, igualitário e ordenado às ações e serviços de saúde se inicia pelas Portas de Entrada do SUS, que correspondem ao serviço de alta complexidade da Rede de Atenção à Saúde.

QUESTÃO 22

De acordo com a Lei nº 11.350, de 5 de outubro de 2006, que dispõe sobre as atividades do Agente Comunitário de Saúde, é considerada atividade típica do Agente Comunitário de Saúde em sua área geográfica de atuação:

- (A) O agendamento de consulta para os profissionais da Estratégia de Saúde da Família e do Núcleo de Apoio à Saúde da Família.
- (B) A realização de visitas domiciliares regulares e periódicas para acolhimento e acompanhamento dos grupos prioritários.
- (C) A dispensação dos medicamentos prescritos pelo médico.
- (D) A promoção de ações individuais e curativas.

QUESTÃO 23

A Territorialização é utilizada para definir a área de atuação dos serviços de saúde com objetivo de planejar o modelo assistencial ao perfil populacional.

Sobre a territorialização, assinale a alternativa INCORRETA.

- (A) A territorialização está entre as diretrizes da Política Nacional de Atenção Básica como atribuição comum a todos os membros da Equipe.
- (B) Em áreas de grande dispersão territorial, áreas de risco e vulnerabilidade social, recomenda-se a cobertura de 100% da população com número máximo de 950 pessoas por ACS.
- (C) A cartografia é uma das ferramentas de apoio ao processo de territorialização e consiste em confeccionar o mapa do território com dados socioambientais e sanitários, que permite um maior foco nos problemas.
- (D) Características como extensão territorial, riscos ambientais, densidade demográfica, dinâmica da comunidade e situação epidemiológica devem ser consideradas para alterar ou manter a delimitação da área e microárea.

QUESTÃO 24

Desenvolver ações de promoção, prevenção, acompanhamento e monitoramento a indivíduos, famílias, grupos específicos e população é uma das competências do Agente Comunitário de Saúde (ACS).

Para tanto, o ACS deve desenvolver as seguintes habilidades, EXCETO:

- (A) Apoiar a prevenção, a identificação e o acompanhamento de situações de violência contra mulheres, de violência sexual, intrafamiliar e de gênero intra e interfamiliar, e da violência contra idosos.
- (B) Promover a abordagem em planejamento familiar, a partir da orientação para grupos e famílias sobre métodos contraceptivos, insumos de prevenção disponíveis nas Unidades, entre outras ações.
- (C) Acompanhar o crescimento e o desenvolvimento infantil, por meio de registros antropométricos e monitoramento da situação vacinal das crianças, conforme planejamento da equipe de saúde.
- (D) Realizar citopatológico e exame clínico das mamas.

QUESTÃO 25

A vigilância em saúde está relacionada às práticas de atenção e *promoção da* saúde e aos mecanismos adotados para prevenção de doenças. Com base nas habilidades da Vigilância em Saúde realizadas pelo Agente Comunitário de Saúde, marque V para verdadeiro e F para a falso.

- () I. Inspeccionar bens, produtos e serviços que oferecem riscos à saúde da população, como alimentos, produtos de limpeza, cosméticos e medicamentos.
- () II. Realizar campanhas ou mutirões para o combate à transmissão de doenças infecciosas e outros agravos.
- () III. Executar ações de campo para pesquisa entomológica (insetos), malacológica (moluscos) ou coleta de reservatórios de doenças, e ações de controle de doenças utilizando as medidas de controle químico, biológico, manejo ambiental ou ações de manejo integrado de vetores.
- () IV. Identificar as condições ambientais e sanitárias que constituem risco para a saúde de indivíduos e populações, informando a equipe de saúde e a população.

Assinale a alternativa com a sequência CORRETA.

- (A) V, V, V, V.
- (B) F, V, V, V.
- (C) V, V, F, V.
- (D) F, V, F, V.

QUESTÃO 26

A Estratégia de Saúde da Família (ESF) visa à reorganização da Atenção Básica no país, de acordo com os preceitos do SUS, conforme disposto na Portaria Nº 2.436, de 21 de setembro de 2017, que aprova a Política Nacional de Atenção Básica.

São atribuições comuns dos membros da equipe da Atenção Básica, EXCETO:

- (A) Realizar e/ou supervisionar acolhimento com escuta qualificada e classificação de risco, de acordo com protocolos estabelecidos.
- (B) Cadastrar e manter atualizado o cadastramento e outros dados de saúde das famílias e dos indivíduos no sistema de informação da Atenção Básica vigente.
- (C) Realizar o cuidado integral à saúde da população adscrita, prioritariamente no âmbito da Unidade Básica de Saúde, e quando necessário, no domicílio e demais espaços comunitários.
- (D) Realizar busca ativa e notificar doenças e agravos de notificação compulsória, bem como outras doenças, agravos, surtos, acidentes, violências, situações sanitárias e ambientais de importância local.

QUESTÃO 27

O acompanhamento das crianças é uma etapa fundamental e prioritária do trabalho do Agente Comunitário de Saúde (ACS).

Refere-se a uma orientação que deve ser fornecida pelo ACS durante a visita puerperal voltada para os recém-nascidos (0 a 28 dias):

- (A) O recém-nascido apresenta ganho de peso nos primeiros dias de vida.

- (B) Bebês que nascem com menos de 2,5 kg e mais de 4 kg devem seguir a rotina de consultas de puericultura estabelecida pelo Ministério da Saúde.
- (C) A realização dos testes de triagem neonatal, como o teste do pezinho, cujo objetivo é diagnosticar diversas doenças a tempo de fazer o tratamento precocemente.
- (D) Não evacuar todos os dias constitui um sinal de alerta, mesmo que o bebê esteja ganhando peso e mamando bem, e deve ser encaminhado para o serviço de referência.

QUESTÃO 28

O início da vida sexual ocorre geralmente na adolescência, tornando esse grupo vulnerável para contrair Infecções Sexualmente Transmissíveis (ISTs).

Para prevenção de uma IST de alta prevalência, o Ministério da Saúde indica a vacina para meninas de 9 a 14 anos e para meninos de 11 a 14 anos contra:

- (A) Hepatite B
- (B) Hepatite C
- (C) Papiloma Vírus Humano (HPV)
- (D) Vírus da Imunodeficiência Humana (HIV)

QUESTÃO 29

M. A. B, 57 anos, sexo masculino, pedreiro, mudou-se recentemente para microárea do ACS Pedro. Na visita domiciliar do ACS, M.A.B. informou ter hanseníase, diagnosticado há sete meses na cidade onde residia, e que está realizando o tratamento regularmente, mas expressou preocupação com possível contaminação das pessoas que residem com ele, pois não foram avaliadas pela equipe de saúde.

Assinale a conduta que deve ser realizada por Pedro para quebrar a cadeia de transmissão da hanseníase:

- (A) Realizar teste dermatológico nos contatos domiciliares.
- (B) Encaminhar os contatos domiciliares para serem examinados.
- (C) Administrar a vacina BCG em todos os contatos domiciliares.
- (D) Indicar imunoprofilaxia para todos os contatos de pacientes com hanseníase.

QUESTÃO 30

A hipertensão arterial sistêmica (HAS) é um importante problema de saúde pública devido a sua alta prevalência, baixas taxas de controle e causa de morbidade e mortalidade cardiovascular.

São atribuições do Agente Comunitário de Saúde no controle da HAS, EXCETO:

- (A) Estimular a mudança no estilo de vida, tais como, alimentação saudável, redução do consumo de bebidas alcoólicas e cessação do tabagismo.
- (B) Observar os aspectos psicossociais e as dificuldades emocionais diante da doença crônica.
- (C) Realizar atividades de educação em saúde para o autocuidado.
- (D) Solicitar exames complementares.

QUESTÃO 31

Em caso de suspeito de Diabetes Mellitus (DM) deve-se encaminhar o paciente para Estratégia de Saúde da Família (ESF).

Constituem queixas que levantam suspeita do DM e devem ser avaliadas pelos profissionais da ESF, EXCETO:

- (A) Infecções de repetição.
- (B) Poliúria, polidipsia e polifagia.
- (C) Dores de cabeça e nas articulações.

(D) A presença de neuropatia, caracterizada por parestesias e/ou dor nos membros inferiores, formigamento, câimbras.

QUESTÃO 32

Com o cenário epidemiológico vivenciado, o Ministério da Saúde elaborou o Plano Nacional de Contingência para Emergências em Saúde Pública por Dengue, Chikungunya e Zika.

Sobre essas arboviroses, assinale a alternativa CORRETA.

- (A) O modo de transmissão dos três arbovírus ao homem é predominantemente por via vetorial, podendo ser também vertical e transfusional e, no caso do Zika, sexual.
- (B) Dengue, Chikungunya e Zika são arboviroses causadas por vírus transmitidos principalmente pela picada do macho do mosquito *Aedes aegypti*.
- (C) A Dengue, a Chikungunya e a Zika apresentam sinais clínicos diferentes, sendo de fácil diagnóstico e manejo clínico.
- (D) São doenças emergentes, pois foram identificadas recentemente e causaram impacto no ser humano por sua gravidade.

QUESTÃO 33

As intervenções em saúde mental devem promover novas possibilidades de modificar e qualificar as condições e modos de vida. São ações dos profissionais da Atenção Básica em saúde mental:

I - Elaborar instrumentos de avaliação familiar, como o ecomapa, que identifica as relações dentro do sistema multigeracional da família, e o genograma, que identifica as relações da família com o meio onde ela vive.

II - A implementação do Projeto Terapêutico Singular como um plano de ação elaborado pelo enfermeiro da equipe, é composto por um conjunto de intervenções que seguem uma intencionalidade de cuidado integral à pessoa.

III - A abordagem da redução de danos como uma das ações de saúde mental pode contribuir para lidar com diversos agravos e condições de saúde.

IV - Encontros entre profissionais e usuários, em que ambos elaborem novas ferramentas e estratégias para compartilhar e construir juntos o cuidado em saúde.

É CORRETO o que se afirma em:

- (A) II, III e IV.
- (B) I, III e IV.
- (C) III e IV.
- (D) IV.

QUESTÃO 34

O Ministério da Saúde estabelece como indicador para o pré-natal a realização de pelo menos seis consultas.

A atribuição dos Agentes Comunitários de Saúde para atingir esse indicador, pode ser descrita como:

- (A) Atualizar o calendário vacinal da gestante.
- (B) Identificar as gestantes de alto risco e encaminhá-las ao serviço de referência.
- (C) Realizar o cadastramento da gestante e fornecer o cartão da gestante devidamente preenchido.
- (D) Captar a gestante até a 12ª semana para o início do pré-natal e realizar busca ativa das gestantes faltosas.

QUESTÃO 35

Toda pessoa deve ter seus valores, sua cultura, sua crença e seus direitos respeitados na relação com os serviços de saúde.

Sobre o Direito à Saúde da pessoa idosa, assinale a alternativa INCORRETA.

(A) A pessoa idosa, mesmo que esteja no domínio de suas faculdades mentais, não tem autonomia para decidir sobre seu tratamento de saúde, sendo essa responsabilidade transferida para um responsável.

(B) Incumbe ao poder público fornecer às pessoas idosas, gratuitamente, medicamentos, especialmente os de uso continuado, assim como próteses, órteses e outros recursos relativos ao tratamento, habilitação ou reabilitação.

(C) É assegurada a atenção integral à saúde da pessoa idosa, por intermédio do Sistema Único de Saúde (SUS), garantindo-lhe o acesso universal e igualitário, em conjunto articulado e contínuo das ações e serviços, para a prevenção, promoção, proteção e recuperação da saúde, incluindo a atenção especial às doenças que afetam preferencialmente as pessoas idosas.

(D) Os casos de suspeita ou confirmação de violência praticada contra pessoas idosas serão objeto de notificação compulsória pelos serviços de saúde públicos e privados à autoridade sanitária, bem como serão obrigatoriamente comunicados por eles a quaisquer dos seguintes órgãos: Autoridade policial, Ministério Público, Conselho Estadual ou Nacional da Pessoa Idosa.

CONHECIMENTOS LOCAIS E ATUALIDADES – questões de 36 a 40

Leia o texto para responder às questões 36 e 37.

HISTÓRIA DA CIDADE DE FRANCISCO MACEDO



IMAGEM: Infonewss – 2022

Francisco Macedo teve origem com a chegada da família do Sr. (...), filho da Sra. (...), que se instalou às margens do Rio Curimatá, onde criou a Fazenda Canabrava, nome este que perdurou por várias décadas, sendo, em 1958, elevado à categoria de Povoado através da Lei nº. 8410.

Só a partir do ano de 1995, com o desmembramento e emancipação política, a antiga Canabrava deixou de fazer parte do município de Padre Marcos tornando-se independente e passando assim a chamar-se Francisco Macedo, nome dado em homenagem ao Ex-Prefeito de Padre Marcos e Médico, Dr. Francisco Luís de Macedo.

Formação Administrativa

Elevado à categoria de município e distrito com a denominação de Francisco Macedo, pela Lei Estadual nº (...), de 14-12-1995, desmembrado de Padre Marcos. Sede no atual distrito de Francisco Macedo (ex-povoado). Constituído do distrito sede. Instalado em 01-01-1997. Em divisão territorial datada de 2001, o município é constituído do distrito sede. Assim permanecendo em divisão territorial datada de 2007.

Disponível em: https://www.cidadesdomeubrasil.com.br/pi/francisco_macedo. Acesso em: 11.jul.23.

QUESTÃO 36

A respeito dos patriarcas que criaram a fazenda, hoje cidade de Francisco Macêdo, marque a alternativa que preenche corretamente os parênteses do texto acima.

- (A) Sr. Valério Coelho Rodrigues, filho da Sra. Maria Antão de Alencar Bezerra
- (B) Sr. Francisco Luís de Macêdo, filho da Sra. Domiciana Vieira de Alencar
- (C) Sr. Pe. Marcos de Araújo Costa, filho da Sra. Maria Rodrigues Santana
- (D) Sr. Joaquim Antão de Carvalho, filho da Sra. Bárbara de Alencar

QUESTÃO 37

Francisco Macêdo foi elevado à categoria de município através de qual Lei Estadual?

- (A) Lei nº 6710, de 14-12-1995
- (B) Lei nº 5910, de 14-12-1995
- (C) Lei nº 4810, de 14-12-1995
- (D) Lei nº 3640, de 14-12-1995

QUESTÃO 38

O que é PIB dos municípios?



O que é o PIB

O PIB é a soma de todos os bens e serviços finais produzidos por um país, estado ou cidade, geralmente em um ano. Todos os países calculam o seu PIB nas suas respectivas moedas. O PIB do Brasil em 2022, por exemplo, foi de R\$ 9,9 trilhões.

De acordo com o dados do Instituto Brasileiro de Geografia e Estatística – IBGE (2020), o PIB de Francisco Macêdo, corresponde a:

- (A) R\$ 10.864,74 PIB per capita
- (B) R\$ 10.101,85 PIB per capita
- (C) R\$ 9.440,74 PIB per capita
- (D) R\$ 7.447,75 PIB per capita

QUESTÃO 39

Censo 2022

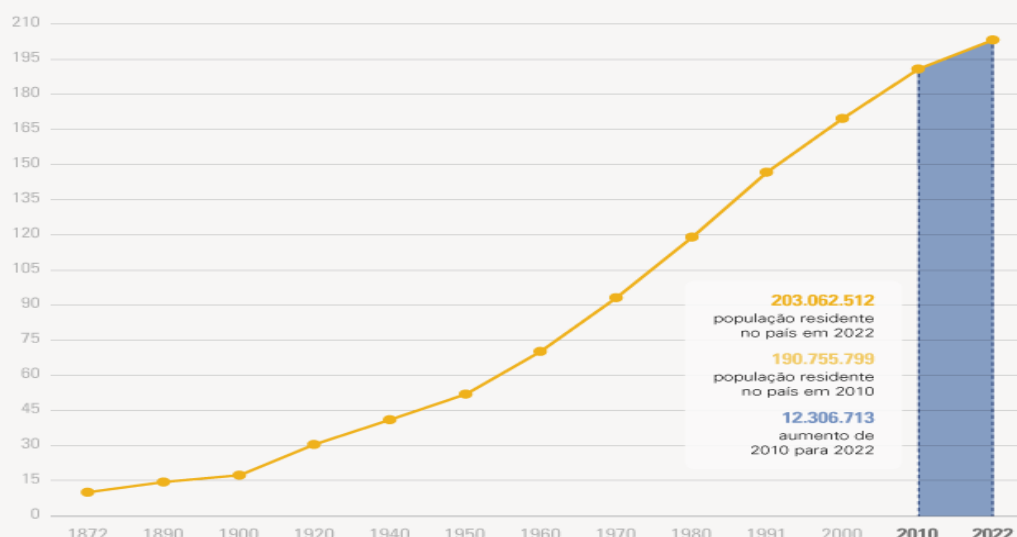
DE 2010 A 2022, POPULAÇÃO BRASILEIRA CRESCE 6,5% E CHEGA A 203,1 MILHÕES

Em 1º de agosto de 2022, o Brasil tinha 203.062.512 habitantes. Desde 2010, quando foi realizado o Censo Demográfico anterior, a população do país cresceu 6,5%, ou 12.306.713 pessoas a mais. Isso resulta em uma taxa de crescimento anual de 0,52%, a menor já observada desde o início da série histórica iniciada em 1872, ano da primeira operação censitária do país. Os dados são dos primeiros resultados do Censo Demográfico de 2022, divulgados hoje (28) pelo IBGE.

Nos 150 anos que separam a primeira operação censitária da última, o Brasil aumentou a sua população em mais de 20 vezes: ao todo, um acréscimo de 193,1 milhões de habitantes. O maior crescimento, em números absolutos, foi registrado entre as décadas de 70 e 80, quando houve uma adição de 27,8 milhões de pessoas. Mas a série histórica do Censo mostra que a média anual de crescimento vem diminuindo desde a década de 60. “Em 2022, a taxa de crescimento anual foi reduzida para menos da metade do que era em 2010 (1,17%)”, afirma o coordenador técnico do Censo, Luciano Duarte.

População residente no Brasil (milhões)

Série histórica



Fonte: Censo Demográfico 2022: População e domicílios - Primeiros resultados

AGÊNCIA IBGE NOTÍCIAS

Disponível em: <https://agenciadenoticias.ibge.gov.br/agencia-noticias/2012-agencia-de-noticias/noticias/37237-de-2010-a-2022-populacao-brasileira-cresce-6-5-e-chega-a-203-1-milhoes>. Acesso em: 11.jul. 23.

De acordo com o Censo demográfico (2022), a população de Francisco Macêdo é de **2.929** pessoas, apresentando Densidade Demográfica de

- (A) 17,7 habitante por quilometro quadrado.
- (B) 16,34 habitante por quilometro quadrado.
- (C) 19,01 habitante por quilometro quadrado.
- (D) 12,36 habitante por quilometro quadrado.

QUESTÃO 40

PRÉDIO MAIS ALTO DO BRASIL É FINALIZADO EM BALNEÁRIO CAMBORIÚ

Balneário Camboriú, no litoral norte de Santa Catarina, recebeu, (...), o edifício mais alto do Brasil em todas as categorias e o maior residencial de toda a América Latina. O prédio foi entregue pela construtora FG, com apartamentos divididos em 84 pavimentos, no valor médio de R\$ 12 milhões, e 290 metros de altura.

Além do valor das unidades do imóvel, os quais todos já foram vendidos, a construção tem números ainda mais impressionantes. Foram utilizadas mais de 9 mil toneladas de aço, 5 mil toneladas de contrapiso e reboco e cerca de 25 mil metros cúbicos de concreto.

Há apenas dois apartamentos em cada um dos 84 andares do (...). São 70 habitáveis por moradores e 20 reservados para área de lazer.

Cinco elevadores de última geração, de alta performance, foram instalados no local para dar conta dos 290m de altura, com direito a "velocidade a jato" de cinco metros por segundo. Este poderio do equipamento faz com que a "viagem" entre os blocos seja de cinco metros por segundo.



Foto: Reprodução Google

Construtora responsável investiu mais de R\$ 650 milhões no projeto, que estava em execução desde 2007.

O presidente e cofundador da FG, Jean Graciola, destacou o comprometimento de toda a equipe que participou da construção.

— O (...) é a realização de um sonho, uma obra marcante em nossa trajetória. Um sonho que começou lá em 2007 com a aquisição do terreno. Crescemos como empresa, buscamos tecnologias, parcerias, rodamos o mundo em busca de novidades e também investimos no desenvolvimento de processos para o avanço de toda a cadeia produtiva — relatou.

Curiosidades sobre o Edifício

1. É o edifício mais alto do Brasil, entre todas as categorias, e o maior residencial da América Latina.
2. É o 32º prédio residencial mais alto do mundo.
3. A construção integra o projeto de transformar o skyline (linha do horizonte) de Balneário Camboriú.
4. 2 mil colaboradores se dedicaram à realização e entrega da obra.
5. Os elevadores deste empreendimento percorrem o prédio em menos de 1 minuto.

Disponível em: <https://gauchazh.clicrbs.com.br/economia/noticia/2022/12/predio-mais-alto-do-brasil-e-finalizado-em-balneario-camboriu-clby1bg5d00a70182p4pn56d4.html>. Acesso em: 11.jul.2023.

O nome do edifício a que a matéria se refere é

- (A) Orion Business & Health Complex
- (B) Yachthouse by Pininfarina
- (C) Infinity Coast
- (D) One Tower